



































麻将連合ツアーライセンス取得審査2025春 点数計算 10分

Q1. 牌姿(1)～(15)の**北家**のアガリ点を答えよ。  
(全て東場。ドラはなし。メンゼン手はヤミテンとする)

氏名

(1)	                                 
-----	--

Q2. 牌姿(16)～(30)の**東家**のアガリ点を答えよ。  
(全て東場。ドラはなし。メンゼン手はヤミテンとする)

(16)		ロン		
(17)		ツモ		オール
(18)		ロン		
(19)		ロン		
(20)		ロン		
(21)		ツモ		オール
(22)		ツモ		オール
(23)		ロン		
(24)		ロン		
(25)		ロン		
(26)		ツモ		オール
(27)		ロン		
(28)		ツモ		オール
(29)		ロン		
(30)		ロン		

麻将連合ツアーライセンス取得審査2025春 多面待ち 10分

Q1. 牌姿(1)～(30)がそれぞれ何マチか答えよ。

マンズは一、二…、ピンズは①、②…、ソースは1、2…、と記入すること。

氏名 \_\_\_\_\_

[illegible][illegible]

## テンパイチャンス 10分

Q1. 牌姿(1)～(17)について、テンパイチャンスをもっと多くする打牌を答えよ。

解答が2つ以上ある場合はその全てを答えよ。

氏名

[illegible]